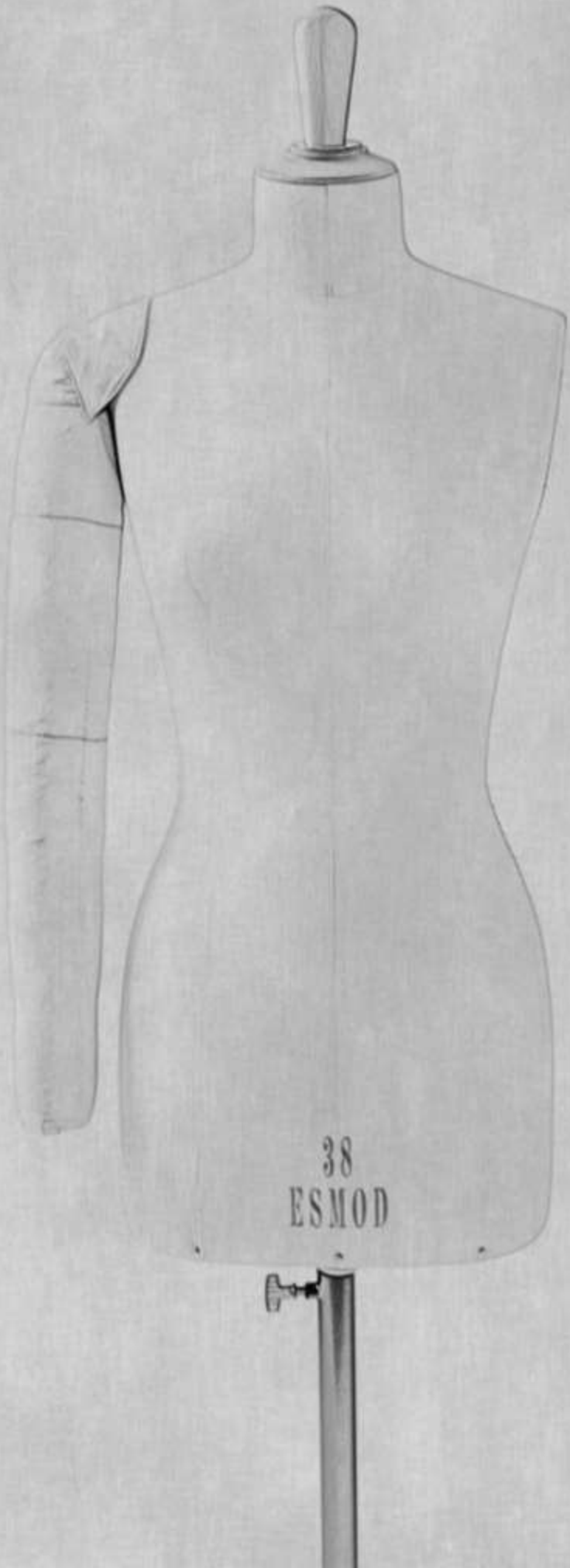


VAKKO | ESMOD

MODA AKADEMISI
ISTANBUL

Ecole Supérieure des Arts et des Techniques de la Mode



Part 1/ Bölüm 1

PERSONAL INFORMATION – KİŞİSEL BİLGİLER

Name Surname / İsim Soyad :.....

Telephone / Telefon :.....

E-mail :.....

Passport No / TC Kimlik No:.....

Part 2 / Bölüm 2

GENERAL FASHION CULTURE - GENEL MODA KÜLTÜRÜ

- Who are your favorite designers and why?
- En sevdiğiniz moda tasarımcıları hangileridir? Neden?

.....

.....

.....

.....

.....

- What interesting things have you seen in boutiques this season?
- Bu sezon butiklerde ilginizi çeken neler gördünüz?

.....

.....

.....

.....

.....

- Which exhibition (museum, travel, etc.) have you seen recently?
- Son zamanlarda hangi sergiyi (müze, gezi vb.) ziyaret ettiniz?

.....

.....

.....

.....

FASHION AWARENESS – MODA FARKINDALIĞI



PHOTO A



PHOTO B

Choose one of the photos above and answer the following questions accordingly.

Yukarıdaki fotoğraflardan birini seçiniz ve aşağıdaki soruları cevaplayınız.

- Which photo did you choose?
- What is the name of the designer?
- Hangi fotoğrafı seçtiniz?
- Tasarımcının adı nedir?

.....

.....

.....

.....

.....

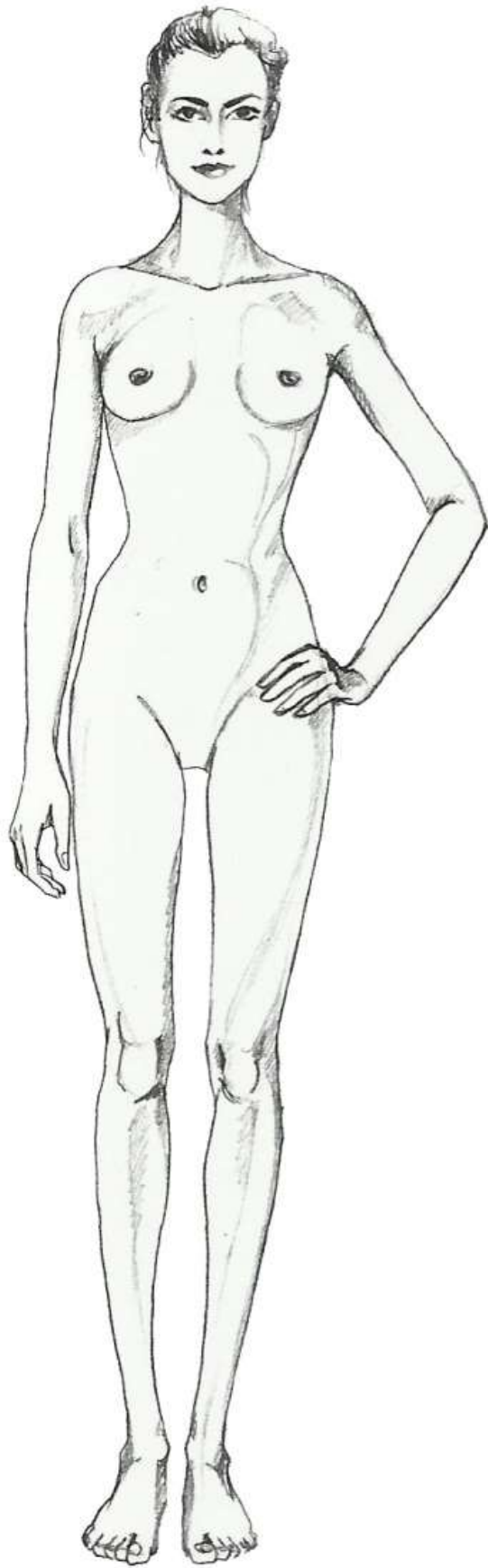
.....



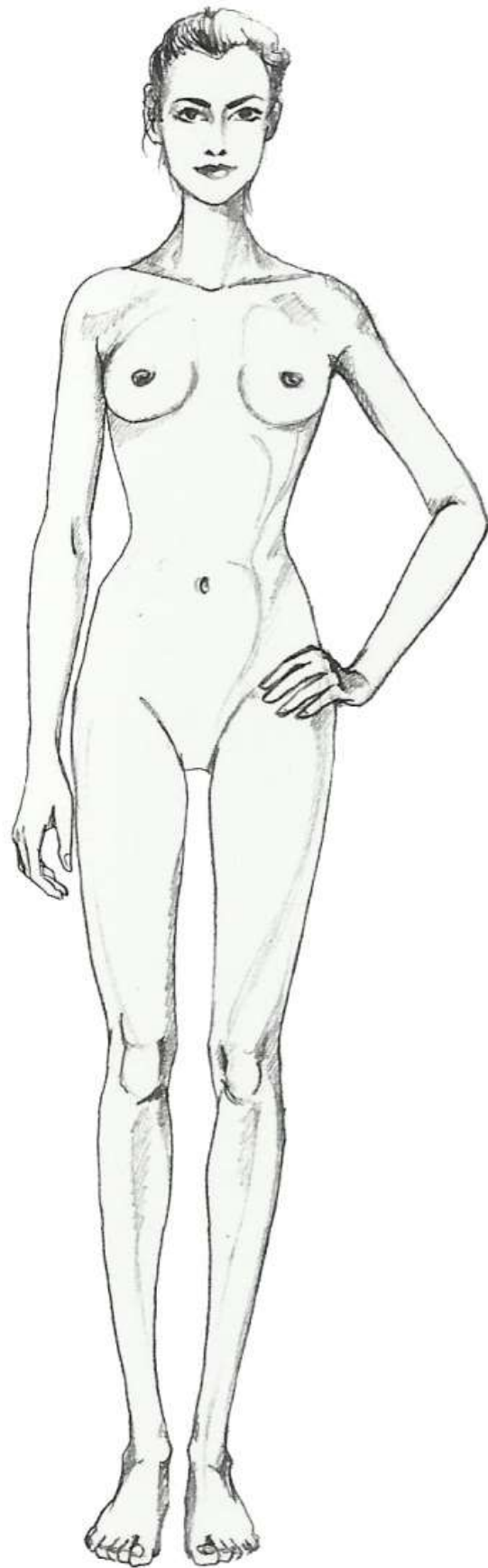
- Take your inspiration from this picture to draw 2 different silhouettes with outfits.
- Yukarıdaki görselden ilham alarak, üzerinde kıyafetler olan 2 siluet çiziniz.

PLEASE USE THE FASHION SILHOUETTE AT THE BACK PAGE TO CREATE YOUR DESIGN.

KENDI TASARIMINIZI ARKA SAYFADAKI MODA FİGÜRÜNÜ KULLANARAK YARATINIZ.



PLEASE USE THE FASHION SILHOUETTE AT THE BACK PAGE TO CREATE YOUR DESIGN.
KENDI TASARIMINIZI ARKA SAYFADAKI MODA FİGÜRÜNÜ KULLANARAK YARATINIZ.



Part 5- Bölüm 5

BASIC GEOMETRY KNOWLEDGE – TEMEL GEOMETRİ BİLGİSİ

Please use the set square ruler, compass whilst answering the questions below.

Aşağıdaki soruları cevaplarken lütfen dik açı cetveli ve pergel kullanınız.

1. Draw a perfect square of 10 cm.
 2. Divide this square in 2 identical triangles.
 3. Specify the angles of these triangles
-
1. 10 cm'lik mükemmel eşitlikte bir kare çiziniz.
 2. Bu kareyi 2 eşit üçgen oluşturacak şekilde bölünüz.
 3. Üçgenin açılarını belirtiniz.

- Trace 2 parallel segments of 10cm.
- Birbirine paralel 10cm'lik 2 çizgi çiziniz.

- Trace a circle that has a radius of 3,5cm.
- 3,5cm yarıçapında bir daire çiziniz.

- Trace a 90 degree and 45 degree corner
- 90 ve 45 derecelik iki açı çiziniz.